

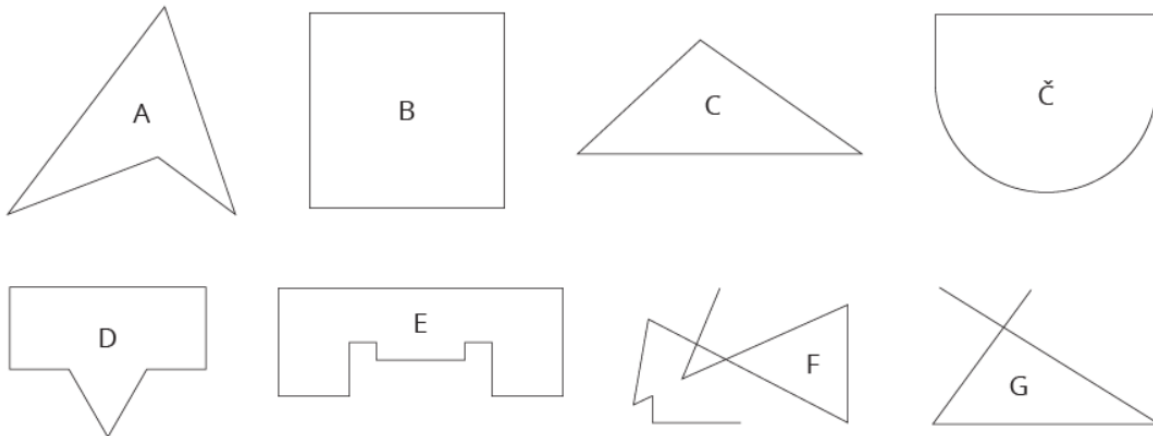
Mat8-DSP- 4- 6. 4. - 10. 4. 2020

SNOV: Utrjevanje – večkotniki

Postopek reševanja zapiši v zvezek in rešitve pošlješ učiteljici DSP.

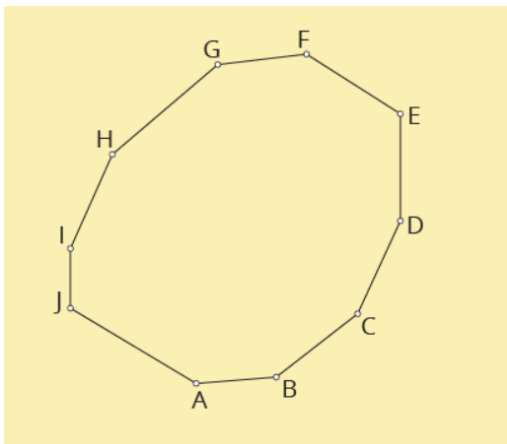
Če želiš, lahko stiskaš UL.

1. Kateri primer so narisani večkotniki? _____

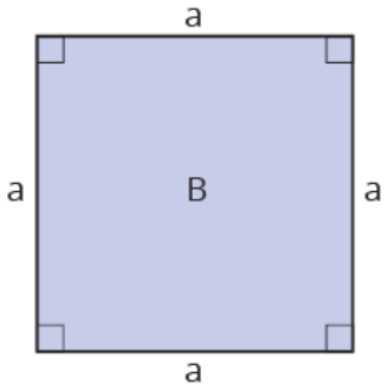


2. Nariši diagonale iz oglišča A.

Koliko diagonal lahko narišeš iz enega oglišča desetkotnika? _____



3. Kvadratu izmeri stranico in mu izračunaj obseg in ploščino. Pazi enote.



$o = \underline{\hspace{2cm}}, S(p) = \underline{\hspace{2cm}}$

4. Z lomljenkami, s šestilom oblikuj poljuben vzorec in ga pobarvaj.

MOJ VZOREC, LIK, FIGURA,...

Aktiv mat: Marjetka Novak, Mihaela Remic, Bojana Zorko