

Pripravili: Špela Košir in Tanja Dremšak

1. DAN

- Reši naloge na str. 105
- Na lilibi.si so v SDZ, na str. 105 dodatne spletne naloge.

Klikni na desni strani 6. naloge  in reši vaje.

- DODATNA NALOGA
Reši naloge na str. 106

2. DAN


- Preveri svoje znanje na str. 107 in 108.
Rešitve so v E- GRADIVU na lilibi.si
- DODATNA NALOGA
Reši miselne orehe na str. 109

3. DAN je KULTURNI DAN

4. DAN

- Zapis v zvezek

Papir prepogni na pol, na pregibu nariši pol poljubnega lika in ga izreži.



Risbo prilepi v zvezek, označi črto pregiba in jo označi kot kaže slika.

V zvezek napiši:

SIMETRIJA

Risba, lik ali predmet je **SIMETRIČEN** takrat, kadar ga lahko prepognemo tako, da sta oba dobljena dela **POPOLNOMA ENAKA**.

Črta, ki deli lik na dva enaka dela se imenuje **SIMETRALA**.

Spodaj nato še nariši geometrijske like in nariši simetralo.




DODATNA NALOGA:

Nariši, izreži in prilepi tudi kakšno zahtevnejšo simetrično risbo. Primer:




5. DAN

- V SDZ – 3. del, reši naloge na str. 5 in 6.
- V spletnem SDZ, na str. 6 klikni na znak  in reši zabavne naloge.

*Dodatne naloge te čakajo na interaktivne-vaje.si

https://interaktivne-vaje.si/02_osnova/predmeti_meni/matematika_meni_1_5.html

Razred: 3.	SLOVENŠČINA	6. TEDEN
Pripravili: Špela Košir in Tanja Dremšak		
1. DAN		
<ul style="list-style-type: none">• Preberi besedilo na str. 40 in reši naloge na str. 41.		
V spletnem SDZ so pod oznako  rešitve prve naloge.		

2. DAN

1. Preberi odlomek pravljice (Berilo 1, str.36, 37)

AFRIŠKA PRAVLJICA

KAJ JE NAJBOLJŠE

Nekoč je živel bogat človek, ki je imel tri sinove. Vsi trije so bili zaljubljeni v isto prelepo deklico in so jo, vsak zase, snubili. Tedaj je deklin oče poklical k sebi vse tri fante in jim preudarno dejal: »Mislim, da bi se, če bi dal svojo hčer enemu izmed vas, druga dva jezila name. Zato bom raje dal vsakemu sto cekinov. Mojo hčer pa bo dobil za ženo tisti od treh, ki bo za sto cekinov kupil najboljšo stvar.«

Bratje so se strinjali, vzeli vsak po sto cekinov in šli po svetu. Vsak je želel kupiti najkoristnejšo in najlepšo stvar.

Najstarejši je izbral preprogo, ki je veljala natanko sto cekinov. Če si sedel na čudežno preprogo, te je v trenutku prenesla tja, kamor si si zaželel.

Drugi brat je za sto cekinov kupil limono. Kdor je popil sok te čarobne limone, je lahko živel, dokler je sam hotel.

Tretji brat je za sto cekinov kupil nenavadno ogledalo, v katerem si kadarkoli lahko zagledal človeka, ki si ga želel videti.

2. Reši. (Naloge lahko natisneš ali pišeš odgovore v zvezek)

Naštej književne osebe.

Napiši tri značilnosti pravljice, ki jih najdeš v prebranem odlomku.

3. Odgovori.

Koliko denarja je dal dekličin oče vsakemu fantu?

Kaj je dekličin oče dal bratom za nalogo?

Kam so odšli bratje?

Kaj so kupili?

Postavi povedi v pravičen vrstni red glede na dogajanje v pravljici.

_____	Vsi trije so bili zaljubljeni v isto prelepo deklico.
_____	Najstarejši brat je kupil čudežno preprogo, srednji brat čarobno limono, najmlajši brat pa nenavadno ogledalo.
4.	Oče je hčer obljubil za ženo tistemu, ki bo kupil najboljšo stvar.
_____	Nekoč je živel bogat človek, ki je imel tri sinove.
_____	Bratje so odšli po svetu.
_____	Dekličin oče je vsakemu bratu dal sto cekinov.

5. Nariši čudežne predmete iz pravljice.

3. DAN – KULTURNI DAN

4. In 5. DAN

Napiši svojo pravljico. Pravljico tudi ilustriraj.

*Iz listov in kartonov lahko izdeláš svojo knjigo v katero boš svojo pravljico napisal in ilustriral. Primer:



Pri pisanju upoštevaj značilnosti pravljic:

- Pravljice se začnejo z: Nekoč pred davnimi časi ...
- V njih se pojavljajo liha števila (1, 3, 5, 7 ...), čarobni predmeti, čarobni izreki, živali, ki govorijo, čudežna bitja, čarovnice, vile, škrati, ..
- Književne osebe so dobre ali hudobne.
- Vedno zmaga dobro nad zlim.
- Junaki pogosto nimajo imen, ampak so poimenovani po vlogah (princ, revna žena, hudobna mačeha, ...)
- Pravljica se vedno srečno konča.

Razred: 3.	SPOZNAVANJE OKOLJA	4. TEDEN
------------	-------------------------------	----------

Pripravili: Špela Košir in Tanja Dremšak

PREVERJANJE ZNANJA.

- Zagotovi si miren prostor.
- Rešuj 45 minut.
- Popravi preverjanje s pomočjo rešitev.

1. Oglej si spodnji koledar in reši nalogi pod njim.

Februar 2020

Pon	Tor	Sre	Čet	Pet	Sob	Ned
					1	2
3	4	5	6	7	8	9
10	11	12	13	14	15	16
17	18	19	20	21	22	23
24	25	26	27	28	29	

a) Dopolni povedi.

Iz letnega koledarja je predstavljen mesec _____.

Mesec ima _____ dni in _____ tednov.

b) Odgovori na vprašanje.




Kateri praznik je v tem mesecu? Na kateri dan je ta praznik?

c) Ali je običajno, da ima februar 29 dni? Pojasni svoj odgovor.

2. Poveži ustrezen datum z ustreznim praznikom.

- | | |
|-----------------|-----------------------------------|
| -- 1. januar | -- dan samostojnosti in enotnosti |
| -- 26. december | -- dan državnosti |
| -- 1. november | -- novo leto |
| -- 25. junij | -- praznik dela |
| | -- dan spomina na mrtve |

3. Napiši, koliko je ura.



ZJUTRAJ _____

ZVEČER _____

PONOČI _____

4. Obkroži naravna življenjska okolja.

GOZD	MESTO	TRAVNIK	VRT	REKA	PUŠČAVA
ZRAK	JEZERO	SADOVNJAK		VAS	PARK

5. Pojasni, kaj pomeni izraz umetno življenjsko okolje.

Napiši en primer. _____

6. Oglej si fotografije. Poimenuj življenjsko okolje in naštej 6 živih bitij (3 rastline in 3 živali) v tem okolju.



_____	_____
_____	_____
_____	_____
_____	_____

7. Poimenuj dve prehranjevalni verigi (v vsaki vsaj tri živali).

8. Kaj je dediščina?



9. Obkroži, kar prištevamo med kulturno dediščino.

- | | | | | |
|------|---------------|-------------|----------------|------------|
| jame | stare zgradbe | jezera | zgodbe | spomeniki |
| reke | črna kuhinja | staro drevo | šege in navade | pripovedke |

10. Določi vir informacij. Poveži

PISNI VIR	USTNI VIR	MATERIALNI VIR
-----------	-----------	----------------



Babica mi je pripovedovala, da je, ko je bila majhna, hodila v šolo bosa, v roki pa je nosila tablico s kredo in krpico.

11. Pojasni, zakaj je pomembno ohranjati našo dediščino.
